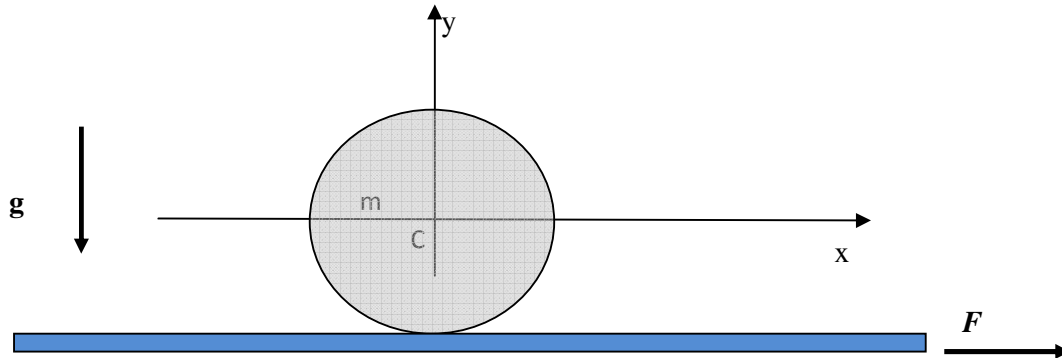


Compito di Fisica Generale di Ingegneria CIVILE-AMBIENTALE- EDILE, CIVILE-AMBIENTALE, e EDILE. 13 Settembre 2016.

Esercizio 1 – Un cilindro di massa $m = 1 \text{ Kg}$ e raggio $r = 2 \text{ cm}$ è appoggiato su una lastra di massa m . La lastra è appoggiata su un piano orizzontale liscio (senza attrito). Una forza $F = 2 \text{ N}$ è applicata sulla lastra come mostrato in figura. Si supponga che il cilindro rotoli senza strisciare sulla lastra.




1.1 – Si trovi la relazione che lega l'accelerazione a_c del centro del cilindro lungo l'asse x all'accelerazione a della lastra lungo x e all'accelerazione angolare α del cilindro (si consiglia di controllare la correttezza della relazione ottenuta controllando che essa si riduca alle note espressioni nei casi limite: 1) piastra ferma e cilindro che rotola, 2) cilindro che non ruota e trasla solidalmente con la piastra). Si dica, inoltre, se il cilindro ruota in senso orario o antiorario.

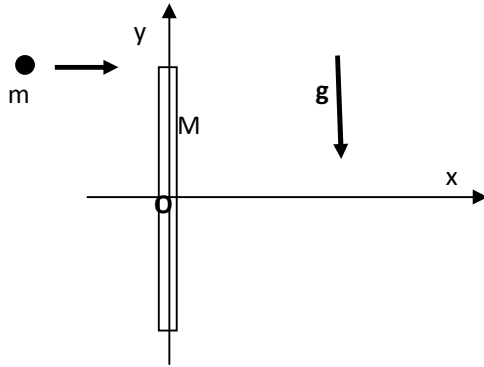
1.2 – Si trovi l'accelerazione a della lastra.

Esercizio 2 – Un'automobile viaggia lungo una autostrada rettilinea con velocità costante $v_0 = 180 \text{ Km/h} = 50 \text{ m/s}$. All'istante $t = 0$ l'automobile sorpassa una macchina della polizia ferma in $x = 0$ che parte immediatamente (al tempo $t = 0$) con accelerazione costante $a = 5 \text{ m/s}^2$ fino a raggiungere la velocità $v = 60 \text{ m/s}$. Dopodiché la polizia prosegue mantenendo costante la sua velocità fino a raggiungere l'auto.

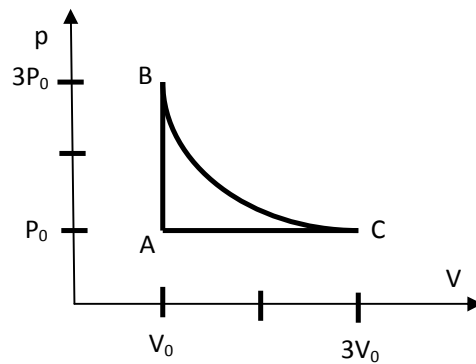
Si trovi a quale distanza d dall'origine $x = 0$ la polizia raggiunge l'automobile.



Esercizio 3 - Una barra di lunghezza $L = 50$ cm e massa $M = 1$ kg è libera di ruotare attorno all'asse passante per il centro O della barra e perpendicolare al piano della figura. Un proiettile di massa $m = 100$ g viene sparato lungo l'asse x con velocità $v_0 = 100$ m/s e urta l'asta sull'estremo superiore restando conficcata. Si dica se nell'urto si conserva la quantità di moto del sistema asta + proiettile e si trovino le componenti x ed y dell'impulso della forza esercitata dall'asse durante l'urto



Esercizio 4 - Una mole di gas biatomico compie il ciclo $ABCA$ mostrato in figura dove $p_0 = 10^5$ Pa e $V_0 = 10^{-3}$ m³ e dove la curva BC è un'isoterma.



4.1 - Si calcoli il calore totale assorbito dal gas nel ciclo e si dica se il sistema opera fra due soli termostati o fra più termostati.

4.2- Si calcolino i calori assorbiti dal gas nei singoli tratti AB , BC e CA e si dica se i calori sono realmente assorbiti o ceduti dal gas. Si calcoli, inoltre, la variazione di entropia $\Delta S = S(A) - S(C)$ e la variazione di entropia nel ciclo.

CHI SI PRESENTA CON L'ELETTROMAGNETISMO LO SCRIVA ALL'INIZIO DEL FOGLIO INSIEME AL NOME E COGNOME E NON RISPONDA ALLA PARTE DEL QUESITO 4.2 RIGUARDANTE L'ENTROPIA.

ATTENZIONE: LE RISPOSTE DEVONO ESSERE GIUSTIFICATE INDICANDO I PASSAGGI LOGICI ESSENZIALI UTILIZZATI PER ARRIVARE AL RISULTATO FINALE. RISPOSTE SENZA ALCUNA GIUSTIFICAZIONE, ANCHE SE CORRETTE, NON SARANNO PRESE IN CONSIDERAZIONE.

Soluzione Esercizio 1- 1.1- Poiché il cilindro è un corpo rigido, vale la relazione generale che lega la accelerazione in un punto a quella in un altro punto. Applicando questa relazione generale all'accelerazione a_C del centro del cilindro e all'accelerazione a nel punto di contatto fra cilindro e lastra, si trova:

$$a_C = a + \alpha \times r \quad (1)$$

dove α è il vettore accelerazione angolare e \times indica il prodotto vettoriale. Nel nostro caso, prendendo come verso positivo dell'accelerazione angolare quello entrante nel piano della figura (rotazione oraria), la relazione (1) si riduce alla semplice relazione scalare

$$a_C = a + \alpha r \quad \Rightarrow \quad \alpha = \frac{a_C - a}{r} \quad (2)$$

nel caso limite di piastra ferma ($a = 0$) si ritrova la condizione standard del rotolamento puro $a_C = a/r$. Nel caso di cilindro che trasla solidalmente con la piastra ($a = a_C$) e non ruota ($a = 0$) si trova correttamente ($a = a_C$). La piastra tende a trascinare il cilindro e, quindi, applica sul cilindro una forza (forza di attrito statico) diretta nel verso positivo dell'asse x , conseguentemente il momento di forza applicato sul cilindro tende a farlo ruotare in senso antiorario.

1.2 - Le forze applicate sul cilindro sono la forza di gravità mg , la forza di attrito F_s esercitata dalla lastra sul cilindro diretta lungo l'asse x e la reazione normale R della lastra che è diretta nel verso positivo dell'asse y . Assumendo F_s diretta nel verso positivo dell'asse x , le equazioni Cardinali per il moto di rototraslazione del cilindro sono:

$$F_s = m a_C \quad (3)$$

$$R - mg = 0 \quad (4)$$

$$- F_s r = m r^2 \alpha / 2 \quad (5)$$

Il segno $-$ nella (5) deriva dalla scelta fatta per il verso entrante dell'accelerazione angolare. Sostituendo la (2) nella (5), la (5) diventa, dopo semplici passaggi,

$$- F_s = m a_C / 2 - m a / 2 \quad (6)$$

Sulla piastra il cilindro esercita le forze $-F_s$ diretta lungo l'asse x in verso negativo e $-R$ diretta lungo l'asse y in verso negativo (principio di azione e reazione). La superficie orizzontale liscia esercita sulla piastra solamente una forza di reazione R_0 diretta lungo l'asse y in verso positivo. Dunque, l'equazione del moto della piastra lungo x è:

$$F - F_s = ma. \quad (7)$$

Il sistema di equazioni lineari (3) (6) e (7) nelle incognite a_C , a e F_s ha come soluzione:

$$a = 3 F / (4 m) = 1.5 \text{ m/s}^2, \quad a_C = F / (4 m) = 0.5 \text{ m/s}^2 \quad \text{e} \quad F_s = F/4 = 0.5 \text{ N} \quad (8)$$

Si osservi che, essendo F_s positiva, l'accelerazione angolare α che si ottiene dalla (5) è negativa, cioè il cilindro ruota in senso antiorario.

Esercizio 2 – La macchina della polizia raggiunge la velocità finale v al tempo t_0 che soddisfa la relazione:

$$v = a t_0 \quad , \quad \text{cioè al tempo } t_0 = v/a = 12 \text{ s} \quad (1)$$

$$\text{La posizione raggiunta a tale tempo è } x_f = a t_0^2/2 = v^2/(2a) = 360 \text{ m} \quad (2)$$

Dopodichè il moto è rettilineo ed uniforme con velocità v e, quindi, la x della polizia al tempo t è:

$$x_1(t) = x_f + v (t - t_0) = -v^2/(2a) + v t \quad (3)$$

dove , per ottenere l'ultimo termine a destra, abbiamo utilizzato la (1) e la (2). La legge oraria dell'automobile è, invece, $x_2(t) = v_0 t$ (4)

La polizia raggiunge l'auto quando $x_1(t) = x_2(t)$, cioè al tempo

$$t = v^2 / [2 a (v - v_0)] = 36 \text{ s} \quad (5)$$

$$\text{Dunque, lo spazio percorso è } d = v_0 t = 1800 \text{ m} \quad (6)$$

Esercizio 3- L'asse esercita una forza impulsiva sul sistema che determina una variazione della sua quantità di moto secondo la legge $I = P_f - P_i$ (1)

Dunque, la quantità di moto del sistema non si conserva. Tuttavia, la forza impulsiva è applicata in O e, quindi, il suo momento di forza rispetto ad O è nullo. Di conseguenza si conserva il momento angolare rispetto ad O . Imponendo la conservazione del momento angolare si scrive:

$$m v_0 L/2 = I_0 \omega \quad (2)$$

dove I_0 è il momento di inerzia del sistema barra + proiettile rispetto ad O all'istante subito dopo l'urto e ω è la velocità angolare in verso orario. Il momento di inerzia è pari a:

$$I_0 = M L^2/12 + m L^2/4 = 2.71 \cdot 10^{-2} \text{ Kg m}^2 \quad (3)$$

$$\text{Dalla (2) si deduce } \omega = m v_0 L / (2 I_0) = 92.3 \text{ rad/s} \quad (4)$$

Subito dopo l'urto il centro di massa dell'asta (O) è fermo e, quindi, la quantità di moto dell'asta è nulla. Dunque, la quantità di moto totale del sistema finale P_f è solo dovuta al proiettile. Subito dopo l'urto il proiettile compie un moto circolare attorno ad O con velocità angolare ω . Dunque, la sua velocità è pari a $\omega L/2$ ed è diretta lungo l'asse x . Ne consegue che la quantità di moto finale del sistema barra + proiettile subito dopo l'urto è

$$P_f = (m \omega L/2, 0) \quad (5)$$

$$\text{La quantità di moto iniziale } P_i = (m v_0, 0) \quad (6)$$

Dalla (1), perciò, si deduce che l'impulso esercitato dall'asse è

$$I = P_f - P_i = (m \omega L/2 - m v_0, 0) = (-7.69, 0) \text{ N m} \quad (7)$$

Soluzione Esercizio 4.1- Nel ciclo la variazione di energia interna è nulla e, quindi, il calore totale assorbito Q_{tot} coincide con il lavoro totale L . Poiché il lavoro è positivo, il sistema opera come motore. Il lavoro L è la somma dei lavori nei singoli tratti che sono pari a:

$$L_{AB} = 0 \quad (1)$$

$$L_{BC} = n R T_B \ln(V_C/V_B) = 3 p_0 V_0 \ln 3 \quad (2)$$

e $L_{CA} = 2 p_0 V_0 \quad (3)$

Dunque, $Q_{tot} = L_{AB} + L_{BC} + L_{CA} = p_0 V_0 (3 \ln 3 - 2) = 130 \text{ J} \quad (4)$

Il ciclo è rappresentato da una curva continua, quindi il sistema opera in modo REVERSIBILE. Per operare in modo reversibile, nei tratti AB e AC il gas deve essere messo in contatto con termostati con temperature comprese da un minimo valore in A ad un massimo in B e C. Conseguentemente non sono sufficienti due termostati per compiere il ciclo.

4.2 - $Q_{AB} = U(B) - U(A) = (5/2) (p_B V_B - p_A V_A) = 5 p_0 V_0 = 500 \text{ J} \quad (5)$

$$Q_{BC} = L_{BC} = 3 p_0 V_0 \ln 3 = 330 \text{ J} \quad (6)$$

$$Q_{CA} = L_{CA} + U(A) - U(C) = -7 p_0 V_0 = -700 \text{ J} \quad (7)$$

I calori Q_{AB} e Q_{BC} sono positivi e, quindi, realmente assorbiti mentre Q_{CA} è negativo e, quindi, ceduto. Si controlla facilmente che la somma dei calori in equazioni (5), (6) e (7) coincide con il valore trovato precedentemente in eq.(4)

La variazione di entropia per il gas perfetto è

$$\Delta S = S(A) - S(C) = (5/2) R \ln (T_A/T_C) + R \ln(V_A/V_C) \quad (8)$$

Dove $T_A = p_0 V_0 / R$ e $T_C = 3 p_0 V_0 / R \quad (9)$

Sostituendo le (9) nella (8) si trova

$$\Delta S = S(A) - S(C) = (5/2) R \ln (1/3) + R \ln (1/3) = (7/2) R \ln (1/3) = -32 \text{ J/K} \quad (10)$$

Soluzione alternativa: la trasformazione CA è isobara e, quindi il calore assorbito per una variazione dT della temperatura è

$$dQ = C_p dT = 7 nR dT / 2 \quad (11)$$

La variazione di entropia è. Perciò, $\int_{T_C}^{T_A} \frac{7}{2} R \frac{dT}{T} = \frac{7}{2} R \ln(T_A - T_C) = (7/2) R \ln (1/3) \quad (12)$

Nel ciclo la variazione di entropia è $\Delta S = S(A) - S(A) = 0$ come deve essere per qualunque funzione di stato poiché in un ciclo lo stato di partenza e quello di arrivo sono sempre coincidenti.